



Je cherche avec mes copains



6



Dessine 4 jetons ● dans chaque rectangle.



Compte les jetons ● et complète.

..... + + + + + = groupes de 4 =


Le petit détective



7



Dessine 5 groupes de 3 jetons ●.



Compte les jetons ● et complète.

..... + + + + = 5 groupes de 3 =



Prendre un paquet de pâtes, des perles, des cailloux ou d'autres petits objets.

À tour de rôle, former des paquets de 4 cailloux, par exemple 5 paquets.

Compter le nombre de paquets, puis le nombre total de cailloux.

Conclure : « 5 paquets de 4 cailloux égalent 20 cailloux ».